

1

Noteer in tabel A de naam van twee dingen uit de klas die je in je ruitjesschrift net zo groot kan tekenen als ze in werkelijkheid zijn.

Noteer in tabel B de naam van twee dingen uit de klas die je in je ruitjesschrift kleiner moet tekenen dan ze in werkelijkheid zijn.

Noteer in tabel C de naam van twee dingen uit de klas die je in je ruitjesschrift best groter moet tekenen dan ze in werkelijkheid zijn.

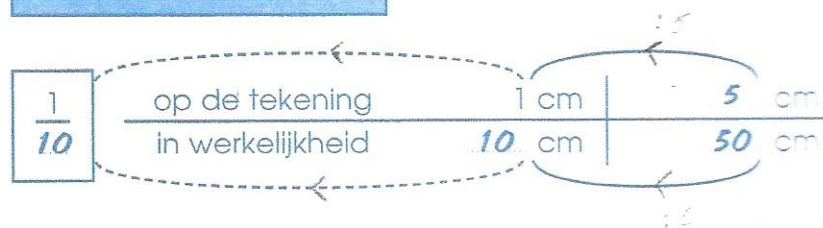
A even groot	
1	.....
2	.....

B kleiner	
1	.....
2	.....

C groter	
1	.....
2	.....



2

Bereken met behulp van het schaalschema op welke schaal de houten lat van 50 cm hieronder is getekend. Teken ook de pijlpunten bij het schema.



3

a) Bereken met behulp van het schaalschema hoe lang de auto in werkelijkheid is. Teken ook de pijlpunten. De auto is getekend op schaal 1 : 100.



b) Vul het passende maatgetal in.

De auto is in werkelijkheid ... **4,5** ... meter lang.

c) Vul de lijnschaal aan.

